


# Les framboises



Maria a ces framboises. Son amie Alia a 8 framboises de plus que Maria. Combien de framboises a Alia ?

# Couper les gâteaux



Matthieu coupe chacun de ces gâteaux en quarts.  
Combien de morceaux de gâteau aura Matthieu au total ?

# Les amandes



Sihem possède ces amandes. Sihem donne 5 amandes à chacun de ses amis. Combien d'amis a Sihem ?




# Mangeur de sushis




Combien de Sushis avait Éric avant que son frère mange des sushis ?

# Quantité de jus



Grayce veut tripler la quantité de jus. Quelle quantité de jus aura Grayce ? Donne ta réponse à l'aide d'une fraction.

# Fabrication de jus



Pour faire un jus, on doit utiliser un fruit, un légume et une épice. Combien de jus différents est-il possible de faire ?




# Le potager



Émilie a ce potager. Le potager d'Émilie a 8 carrés de moins que celui de Fatiha. Combien de carrés il y a dans le potager de Fatiha ?

# Les raisins



Véronique a ces raisins mauves. Béatrice a des raisins verts. Sur la table, il y a 52 raisins. Combien de raisins a Béatrice ?



# Pain brûlé



Ce matin, Abir a fait brûler ces tranches de pain. Durant le dîner, Abir a fait brûler un certain nombre de tranches de pain. À la fin de la journée, Abir compte au total 31 tranches de pain brûlées. Combien de tranches de pain Abir a-t-elle fait brûler durant le dîner ?

# Pépites de chocolat



Est-ce que le pâtissier a assez de pépites de chocolat pour faire ce biscuit ? Quelle est la différence ?